

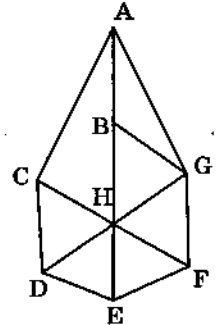
ВАРИАНТ 12

Часть 1

1

На рисунке схема дорог Н-ского района изображена в виде графа, в таблице содержатся сведения о протяжённости каждой из этих дорог (в километрах).

		Номер пункта							
		1	2	3	4	5	6	7	8
Номер пункта	1		16	17	18				
	2	16			19				12
	3	17				20		13	
	4	18	19			21	22	14	11
	5			20	21		23	15	
	6				22	23			10
	7			13	14	15			
	8		12		11		10		



Так как таблицу и схему рисовали независимо друг от друга, то нумерация населённых пунктов в таблице никак не связана с буквенными обозначениями на графе. Определите, какова протяжённость дороги из пункта А в пункт В. В ответе запишите целое число — так, как оно указано в таблице.

Ответ: _____.

2

Миша заполнял таблицу истинности функции F

$$\neg((x \equiv y) \vee (x \equiv w)) \vee z \vee \neg(y \rightarrow w),$$

но успел заполнить лишь фрагмент из трёх различных её строк, даже не указав, какому столбцу таблицы соответствует каждая из переменных w, x, y, z :

				F
1	0	0		0
				0
1	1			0
	0	1		0

Определите, какому столбцу таблицы соответствует каждая из переменных w, x, y, z . В ответе напишите буквы w, x, y, z в том порядке, в котором идут соответствующие им столбцы (сначала буква, соответствующая первому столбцу; затем буква, соответствующая второму столбцу, и т. д.). Буквы в ответе пишите подряд, никаких разделителей между буквами ставить не нужно.

Пример. Функция F задана выражением $\neg x \vee y$, зависящим от двух переменных, а фрагмент таблицы имеет следующий вид.

		F
0	1	0

В этом случае первому столбцу соответствует переменная y , а второму столбцу — переменная x . В ответе следует написать yx .

Ответ: _____.



Задание выполняется с использованием прилагаемых файлов.

3

В файле¹ приведён фрагмент базы данных «Агротовары», принадлежащей агрохолдингу, предлагающему покупателям овощи и фрукты, произведённые на производственных базах, принадлежащих агрохолдингу. База данных состоит из трёх связанных прямоугольных таблиц. Таблица «Наличие» содержит записи о поступивших на склад и ушедших со склада покупателям товарах. Поле *Тип операции* содержит значение «Поступило с производства» или «Выдано покупателю». Заголовок таблицы имеет вид:

ID операции	Дата	Артикул	ID производственной базы	Количество, кг	Тип операции
-------------	------	---------	--------------------------	----------------	--------------

Таблица «Продукты» содержит информацию о продуктовых товарах, выращиваемых на производственных базах агрохолдинга. Заголовок таблицы имеет вид:

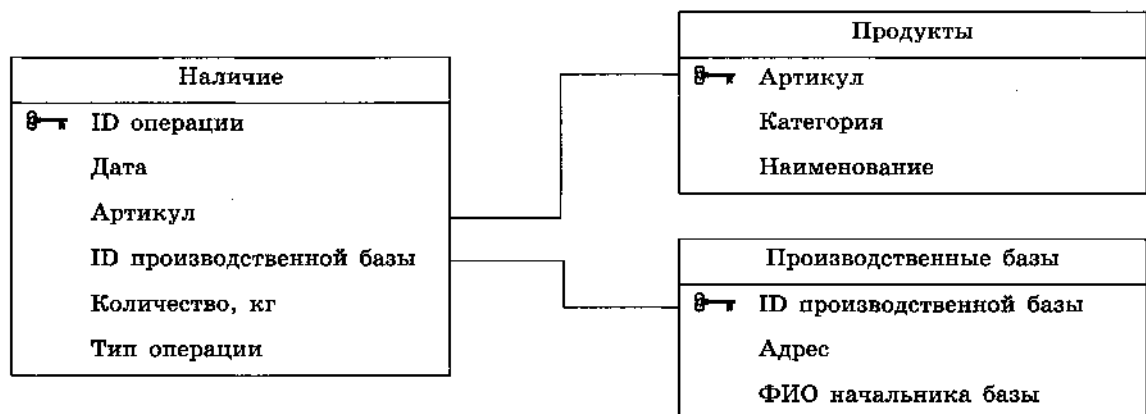
Артикул	Категория	Наименование
---------	-----------	--------------

Таблица «Производственные базы» содержит информацию о местах производства различных видов овощей и фруктов.

Заголовок таблицы имеет вид:

ID производственной базы	Адрес	ФИО начальника базы
--------------------------	-------	---------------------

На рисунке приведена схема указанной базы данных.



Используя информацию из приведённой базы данных, определите количество (в килограммах) шиповника, выращенного во Владимирской области, который есть в наличии на складах агрохолдинга сразу после завершения рабочего дня 10.09.2021. В ответе запишите только число.

Ответ: _____.

¹ Файл можно скачать по адресу: <https://nabr.ru/files/ege-informatika-2022/>

4

По каналу связи передаются шифрованные сообщения, содержащие только семь букв: А, Б, В, Г, Д, Е, Ж. Для передачи используется неравномерный двоичный код. Для букв А, Б, В и Г используются кодовые слова 00, 01, 100, 111 соответственно.

Укажите минимальную сумму длин кодовых слов для букв Д, Е и Ж, при которой код будет удовлетворять условию Фано.

Примечание. Условие Фано означает, что никакое кодовое слово не является началом другого кодового слова. Это обеспечивает возможность однозначной расшифровки закодированных сообщений.

Ответ: _____.

5

На вход алгоритма подаётся натуральное число N . Алгоритм строит по нему новое число R следующим образом.

1. Строится двоичная запись числа N .
2. Каждый разряд этой записи заменяется двумя разрядами по следующему правилу: если в разряде стоит 0, то вместо него пишется 00; если в разряде стоит 1, то 1 заменяется на 11.

Например, двоичная запись 1001 числа 9 будет преобразована в 11000011.

Полученная таким образом запись (в ней в два раза больше разрядов, чем в записи исходного числа N) является двоичной записью числа R — результата работы данного алгоритма.

Укажите минимальное число R , большее 63, которое может являться результатом работы данного алгоритма. В ответе это число запишите в десятичной системе счисления.

Ответ: _____.

6

Определите, при каком наименьшем введённом значении переменной s программа выведет число 500. Для Вашего удобства программа представлена на четырёх языках программирования.

Python	Алгоритмический язык
<pre>s = int(input()) n = 350 while n - s > 0: s = s + 25 n = n + 10 print(n)</pre>	<pre>алг нач цел n, s ввод s n := 350 нц пока n - s > 0 s := s + 25 n := n + 10 кц вывод n кон</pre>

Окончание табл.

Паскаль	C++
<pre> var s, n: integer; begin readln(s); n := 350; while n - s > 0 do begin s := s + 25; n := n + 10 end; writeln(n) end. </pre>	<pre> #include <iostream> using namespace std; int main() { int s, n; cin >> s; n = 350; while (n - s > 0) { s = s + 25; n = n + 10; } cout << n << endl; return 0; } </pre>

Ответ: _____.

7

Автоматическая камера производит растровые изображения размером 1000×1600 пикселей. Для кодирования цвета каждого пикселя используется одинаковое количество бит, коды пикселей записываются в файл один за другим без промежутков. Объём файла с изображением не может превышать 2100 Кбайт без учёта размера заголовка файла. Какое максимальное количество цветов можно использовать в палитре?

Ответ: _____.

8

Шифр кодового замка представляет собой последовательность из трёх символов, каждый из которых является цифрой от 1 до 4. Сколько различных вариантов шифра можно задать, если известно, что цифра 2 должна встречаться в коде ровно один раз, а каждая из других допустимых цифр может встречаться в шифре любое количество раз или не встречаться совсем?

Ответ: _____.



Задание выполняется с использованием прилагаемых файлов.

9

Откройте файл¹ электронной таблицы, содержащей вещественные числа — результаты ежечасного измерения концентрации примесей в воде очистных установок на протяжении трёх месяцев. Найдите разность между максимальным значением концентрации примесей на протяжении трёх месяцев и вторым по величине после максимального значением.

В ответе запишите только целую часть получившегося числа.

Ответ: _____.



Задание выполняется с использованием прилагаемых файлов.

10

С помощью текстового редактора определите, сколько раз, не считая сносок, встречается слово «мошенник» или «Мошенник» в тексте поэмы Н. В. Гоголя «Мёртвые души»¹. Другие формы слова «мошенник», такие как «мошенники», «мошенникам» и т. д., учитывать не следует. В ответе укажите только число.

Ответ: _____.

11

При регистрации в компьютерной системе каждому пользователю выдаётся пароль, состоящий из 9 символов и содержащий только символы из 62-символьного набора цифр и прописных и строчных латинских букв. В базе данных для хранения сведений о каждом пользователе отведено одинаковое и минимально возможное целое число байт. При этом используют посимвольное кодирование паролей, все символы кодируют одинаковым и минимально возможным количеством бит. Кроме собственно пароля, для каждого пользователя в системе хранятся дополнительные сведения, для чего выделено целое число байт; это число одно и то же для всех пользователей.

Для хранения сведений о 25 пользователях потребовалось 600 байт. Сколько байт выделено для хранения дополнительных сведений об одном пользователе? В ответе запишите только целое число — количество байт.

Ответ: _____.

¹ Файлы можно скачать по следующему адресу: <https://nabr.ru/files/ege-informatika-2022/>

12

Исполнитель Редактор получает на вход строку цифр и преобразовывает её. Редактор может выполнять две команды, в обеих командах v и w обозначают цепочки цифр.

А) **заменить** (v, w).

Эта команда заменяет в строке первое слева вхождение цепочки v на цепочку w . Например, выполнение команды **заменить** (111, 27)

преобразует строку 05111150 в строку 0527150.

Если в строке нет вхождений цепочки v , то выполнение команды **заменить** (v, w) не меняет эту строку.

Б) **нашлось** (v).

Эта команда проверяет, встречается ли цепочка v в строке исполнителя Редактор. Если она встречается, то команда возвращает логическое значение «истина», в противном случае возвращает значение «ложь». Строка исполнителя при этом не изменяется.

Цикл

ПОКА *условие*
 последовательность команд
КОНЕЦ ПОКА

выполняется, пока условие истинно.

В конструкции

ЕСЛИ *условие*
 ТО *команда1*
КОНЕЦ ЕСЛИ

выполняется *команда1* (если условие истинно).

В конструкции

ЕСЛИ *условие*
 ТО *команда1*
 ИНАЧЕ *команда2*
КОНЕЦ ЕСЛИ

выполняется *команда1* (если условие истинно) или *команда2* (если условие ложно).

Определите количество цифр 2 в строке, получившейся в результате применения приведённой ниже программы к входной строке 1232323...2323, т. е. к строке,

50 раз 2, 3

состоящей из единицы, за которой следуют попеременно 50 чисел 2 и 50 чисел 3.

В ответе запишите только количество цифр 2 в получившейся строке.

НАЧАЛО

ПОКА **нашлось** (123) **ИЛИ** **нашлось** (1)

ЕСЛИ **нашлось** (123)
 ТО **заменить** (123, 23231)
 ИНАЧЕ
 ЕСЛИ **нашлось** (1)
 ТО **заменить** (1, 23)
 КОНЕЦ ЕСЛИ

КОНЕЦ ЕСЛИ

КОНЕЦ ПОКА

КОНЕЦ

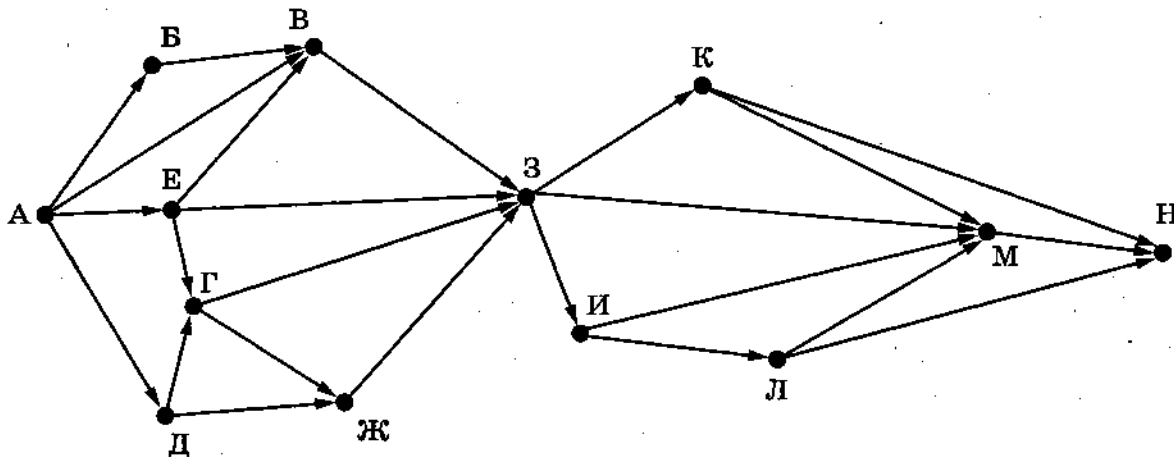
Ответ: _____.

13

На рисунке представлена схема дорог, связывающих города А, Б, В, Г, Д, Е, Ж, З, И, К, Л, М, Н.

По каждой дороге можно двигаться только в одном направлении, указанном стрелкой.

Сколько существует различных путей из города А в город Н, проходящих через город В?



Ответ: _____.

14

Значение арифметического выражения: $3^{70} - 3^{55} + 9^{20} - 81$ — записали в системе счисления с основанием 3. Сколько цифр «2» содержится в этой записи?

Ответ: _____.

15

Для какого наибольшего целого неотрицательного числа A выражение

$$(x < A) \wedge (y < A) \wedge (x \cdot y > 1200)$$

тождественно ложно, т. е. принимает значение 0 при любых целых положительных x и y ?

Ответ: _____.

16

Алгоритм вычисления значения функции $F(n)$, где n — натуральное число, задан следующими соотношениями:

$$F(n) = 1 \text{ при } n = 1;$$

$$F(n) = 1 \text{ при } n = 2;$$

$$F(n) = 3 + F(n - 1), \text{ если } n > 2 \text{ и при этом если } n \text{ чётно};$$

$$F(n) = 2 \cdot n + F(n - 2), \text{ если } n > 2 \text{ и при этом } n \text{ нечётно.}$$

Чему равно значение функции $F(42)$?

Ответ: _____.



Задание выполняется с использованием прилагаемых файлов.

17

В файле¹ содержится последовательность целых чисел. Элементы последовательности могут принимать целые значения от $-10\,000$ до $10\,000$ включительно. Определите и запишите в ответе сначала количество пар элементов последовательности, в которых хотя бы один элемент пары превосходит 300 , затем минимальную из сумм квадратов элементов таких пар. В данной задаче под парой подразумевается два подряд идущих элемента последовательности. Например, для последовательности из пяти элементов:

400; 2; 9; -3; 500 — ответ

2	160004
---	--------

Ответ: _____.



Задание выполняется с использованием прилагаемых файлов.

18

Квадрат разлинован на $N \times N$ клеток ($1 < N < 20$). Исполнитель Робот может перемещаться по клеткам, выполняя за одно перемещение одну из двух команд: **вправо** или **вниз**. По команде **вправо** Робот перемещается в соседнюю правую клетку, по команде **вниз** — в соседнюю нижнюю. При попытке пересечь границы (внутренние и границы квадрата) Робот разрушается. Перед каждым запуском Робота в каждой клетке квадрата указана плата за посещение в размере от 1 до 100. Посетив клетку, Робот платит за её посещение; это также относится к начальной и конечной клеткам маршрута Робота.

Определите минимальную и максимальную денежные суммы, которые заплатит Робот, пройдя из левой верхней клетки в правую нижнюю. В ответе укажите два числа — сначала минимальную сумму, затем максимальную.

Исходные данные¹ представляют собой электронную таблицу размером $N \times N$, каждая ячейка которой соответствует клетке квадрата.

Пример входных данных:

1	8	8	4
10	1	1	3
1	3	12	2
2	3	5	6

Для указанных входных данных ответом должна быть пара чисел:

27	41
----	----

Ответ:

--	--

¹ Файлы можно скачать по следующему адресу: <https://nabr.ru/files/ege-informatika-2022/>

19

Два игрока, Петя и Ваня, играют в следующую игру. Перед игроками лежат две кучи камней. Игроки ходят по очереди, первый ход делает Петя. За один ход игрок может добавить в одну из куч (по своему выбору) один камень либо увеличить количество камней в куче в два раза. Например, пусть в одной куче 10 камней, а в другой 7 камней; такую позицию в игре будем обозначать $(10, 7)$. Тогда за один ход можно получить любую из четырёх позиций: $(11, 7)$, $(20, 7)$, $(10, 8)$, $(10, 14)$. Для того чтобы делать ходы, у каждого игрока есть неограниченное количество камней.

Игра завершается в тот момент, когда произведение количеств камней в кучах становится не менее 144. Победителем считается игрок, сделавший последний ход, т. е. первым получивший такую позицию, что произведение количеств камней в кучах будет 144 или больше.

В начальный момент в первой куче было два камня, во второй куче — S камней; $1 \leq S \leq 141$.

Будем говорить, что игрок имеет *выигрышную стратегию*, если он может выиграть при любых ходах противника. Описать стратегию игрока — значит описать, какой ход он должен сделать в любой ситуации, которая ему может встретиться при различной игре противника. В описание выигрышной стратегии не следует включать ходы играющего по этой стратегии игрока, не являющиеся для него безусловно выигрышными, т. е. не являющиеся выигрышными независимо от дальнейшей игры противника.

Известно, что Ваня выиграл своим первым ходом после неудачного первого хода Пети. Укажите минимальное значение S , когда такая ситуация возможна.

Ответ: _____.

20

Для игры, описанной в предыдущем задании, найдите два таких значения S , при которых у Пети есть выигрышная стратегия, причём одновременно выполняются два условия:

- Петя не может выиграть за один ход;
- Петя может выиграть своим вторым ходом независимо от того, как будет ходить Ваня.

Найденные значения запишите в ответе в порядке возрастания.

Ответ:

21

Для игры, описанной в задании 19, найдите минимальное значение S , при котором одновременно выполняются два условия:

- у Вани есть выигрышная стратегия, позволяющая ему выиграть первым или вторым ходом при любой игре Пети;
- у Вани нет стратегии, которая позволит ему гарантированно выиграть первым ходом.

Ответ: _____.

22

Ниже на четырёх языках программирования записан алгоритм. Получив на вход натуральное десятичное число x , этот алгоритм печатает два числа: S и P . Укажите наибольшее число x , при вводе которого алгоритм печатает сначала 66, а потом 78.

Python	Алгоритмический язык
<pre>x = int(input()) P = 0 S = 5 * (x - x % 30) i = 1 while P < S: S = S - 3 * i P = P + i i = i + 1 print(S) print(P)</pre>	<pre>алг нач цел x, P, S, i ввод x P := 0 S := 5 * (x - mod(x, 30)) i := 1; нц пока P < S S = S - 3 * i P := P + i i := i + 1 кц вывод S, P кон</pre>
Паскаль	C++
<pre>var x, P, S, i: integer; begin readln(x); P := 0; S := 5 * (x - x mod 30); i := 1; while P < S do begin S := S - 3 * i; P := P + i; i := i + 1 end; writeln(S); writeln(P) end.</pre>	<pre>#include <iostream> using namespace std; int main() { int x, P, S, i; cin >> x; P = 0; S = 5 * (x - x % 21); i = 1; while (P < S) { S = S - 3 * i; P = P + i; i = i + 1; } cout << S << endl << P << endl; return 0; }</pre>

Ответ: _____.

23

Исполнитель Вычислитель преобразует число, записанное на экране.

У исполнителя есть три команды, которым присвоены номера:

1. Прибавить 5
2. Прибавить 4
3. Умножить на 3

Первая из них увеличивает число на экране на 5, вторая увеличивает его на 4, третья умножает его на 3.

Программа для Вычислителя — это последовательность команд.

Сколько существует таких программ, которые преобразуют исходное число 2 в число 30 и при этом траектория вычислений программы содержит число 6?

Траектория вычислений программы — это последовательность результатов выполнения всех команд программы. Например, для программы 132 при исходном числе 1 траектория будет состоять из чисел 6, 18, 22.

Ответ: _____.



Задание выполняется с использованием прилагаемых файлов.

24

Текстовый файл¹ состоит не более чем из 10^6 символов арабских цифр (0, 1, ..., 9).

Определите максимальное количество идущих подряд цифр, расположенных в строгом возрастающем порядке.

Для выполнения этого задания следует написать программу.

Ответ: _____.

25

Напишите программу, которая перебирает целые числа, большие 350 000, в порядке возрастания и ищет среди них такие, для которых наибольший натуральный делитель, не равный самому числу, не является простым числом. Программа должна найти и вывести первые 6 таких чисел и соответствующие им значения упомянутых делителей.

Формат вывода: для каждого из 6 таких найденных чисел в отдельной строке сначала выводится само число, затем упомянутый делитель. Строки выводятся в порядке возрастания найденных чисел.

Например, для числа 105 наибольший натуральный делитель 35 не является простым, для числа 15 наибольший натуральный делитель 5 — простое число, а для числа 13 такого делителя не существует.

Ответ:

...	...

¹ Файл можно скачать по следующему адресу: <https://nabr.ru/files/ege-informatika-2022/>



Задание выполняется с использованием прилагаемых файлов.

26

Илье необходимо перенести файлы с одного компьютера на другой при помощи внешнего жёсткого диска.

Объём диска может быть меньше, чем требуется для переноса всех файлов за один раз. Свободный объём на диске и размеры файлов известны.

По заданной информации об объёме файлов на компьютере и свободном объёме на диске определите максимальное число файлов, которые могут быть перенесены за один раз на внешний жёсткий диск, а также максимальный размер файла, записанного на этот диск, при условии, что перенесено наибольшее возможное число файлов.

Входные данные¹.

В первой строке входного файла находятся два числа: S — размер свободного места на диске (натуральное число, не превышающее 100 000) и N — количество файлов, которые надо перенести (натуральное число, не превышающее 10 000). В следующих N строках находятся значения объёмов указанных файлов (все числа натуральные, не превышающие 100), каждое в отдельной строке.

Выходные данные.

Запишите в ответе два числа: сначала наибольшее число файлов, которые могут быть перенесены на внешний жёсткий диск за один раз, затем максимальный размер перенесённого файла, при условии, что перенесено наибольшее возможное число файлов. Если вариантов переноса несколько, выберите тот, при котором будет перенесён наибольший файл.

Пример входного файла:

100 4
80
30
50
40

При таких исходных данных можно сохранить файлы максимум двух пользователей. Возможные объёмы этих двух файлов 30 и 40, 30 и 50 или 40 и 50. Наибольший объём файла из перечисленных пар — 50, поэтому ответ для приведённого примера:

2	50
---	----

Ответ:

<input type="text"/>	<input type="text"/>
----------------------	----------------------

¹ Файл можно скачать по следующему адресу: <https://nabr.ru/files/ege-informatika-2022/>



Задание выполняется с использованием прилагаемых файлов.

27

Имеется набор данных, состоящий из пар положительных целых чисел. Необходимо выбрать из каждой пары ровно одно число так, чтобы сумма всех выбранных чисел не делилась на 45 и при этом была максимально возможной. Гарантируется, что искомую сумму получить можно.

Программа должна напечатать одно число — максимально возможную сумму, соответствующую условиям задачи.

Входные данные¹.

Даны два входных файла (файл *A* и файл *B*), каждый из которых содержит в первой строке количество пар N ($1 \leq N \leq 100\,000$). Каждая из следующих N строк содержит два натуральных числа, не превышающих 10 000.

Пример организации исходных данных во входном файле:

```
6
1 3
5 12
6 9
5 4
3 3
1 1
```

Для указанных входных данных значением искомой суммы должно быть число 33. В ответе укажите два числа: сначала значение искомой суммы для файла *A*, затем для файла *B*.

Предупреждение: для обработки файла *B* не следует использовать переборный алгоритм, вычисляющий сумму для всех возможных вариантов, поскольку написанная по такому алгоритму программа будет выполняться слишком долго.

Ответ:

¹ Файлы можно скачать по следующему адресу: <https://nabr.ru/files/ege-informatika-2022/>